

Демоверсия итоговой контрольной работы по математике для 2 класса

Ф. И. _____ Класс _____

1. В каком числе содержится **четыре десятка и девять единиц**? Ответ подчеркни.

1) 49

2) 94

2. **Запиши** следующие 3 числа данной последовательности.

76, 71, 66, 61, _____, _____, _____

3. В каком случае пропущен знак «>»? **Подчеркни** эту запись.

1) 1 ч.....80 мин

2) 4 см.....3 см 7 мм

4. Вычисли:

1) $57 + 43 =$ _____

2) $54 - 27 =$ _____

5. **Найди** значение выражений.

1) $64 + (32 - 24) =$ _____

2) $(80 - 34) + 17 =$ _____

6. **Реши задачу.**

Сколько потребуется тарелок, чтобы разложить 15 пирожков по 3 пирожка на каждую? Выбери правильный ответ.

1) 8 тарелок

2) 5 тарелок

3) 18 тарелок

7. **Реши задачу.**

Вика отгадала 7 загадок, а Катя на 3 загадки больше. Сколько всего загадок отгадали девочки? Посмотри, как дети решили задачу:

Миша	Коля	Вадим
1) $7-3=4$ (з.)	1) $7+3=10$ (з.)	1) $7+3=10$ (з.)
2) $7+4=11$ (з.)	2) $10+7=17$ (з.)	2) $10+3=13$ (з.)


Кто решил задачу правильно?

1). Миша

2). Коля

3). Вадим

8. Дима вырезал из бумаги геометрические фигуры. Какие фигуры **НЕ** имеют прямой угол? **Выпиши** номера этих фигур.



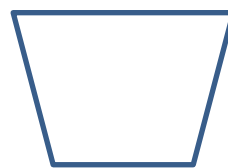
1



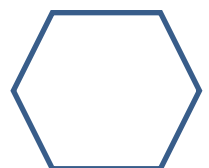
2



3



4



5

Ответ: _____

9. Реши задачу.

Периметр квадрата равен 12 сантиметров. Найди длину стороны данного квадрата. **Выбери** правильный ответ.

1) 6 см

2) 3 см

3) 4 см

10. Начерти прямоугольник со сторонами 3 см и 5 см. **Найди** периметр этого прямоугольника.

11. К числу 14 прибавили неизвестное число и получили 32. Чему равно неизвестное число?

1) 18

2) 28

3) 46

12. Реши задачу.

Кате 13 лет, а Оле 14 лет. Сколько лет будет девочкам через 8 лет? **Запиши** решение и ответ.

Решение:

13. Реши задачу.

В саду росло 41 дерево. 19 из них спилили и посадили 26 новых деревьев. Сколько деревьев стало в саду? **Запиши** решение и ответ.

Решение:

14. Найди длину ломанной, если ее звенья равны 5 дм, 4 дм и 3 дм. **Подчеркни** правильный ответ.

1) 12 дм

2) 12 см

3) 1 дм 2 см

15. Реши задачу.

Несколько мальчиков разделили между собой 12 конфет, по 3 конфеты каждому. Сколько было мальчиков? **Подчеркни** ответ.

1) 15

2) 9

3) 4

16. В нашем доме 5 этажей. Высота каждого этажа 3 метра. У дома растет береза, вершина которой достает до крыши дома. Как узнать высоту березы?

Подчеркни выражение, которое **НЕ** является решением данной задачи.

1) $5 \cdot 3$

2) $3+3+3+3+3$

3) $5+3$

17. Используя данные таблицы, **выясни**, какой гриб на I месте по размеру шляпки. **Определи** места остальных грибов.

Название гриба	Размер шляпки	Место
боровик	30 см	№
опёнок	8 см	№
груздь	20 см	№
шампиньон	7 см	№
лисичка	10 см	№

У какого гриба размер шляпки больше, чем у шампиньона, но меньше, чем у лисички?

Ответ: У _____